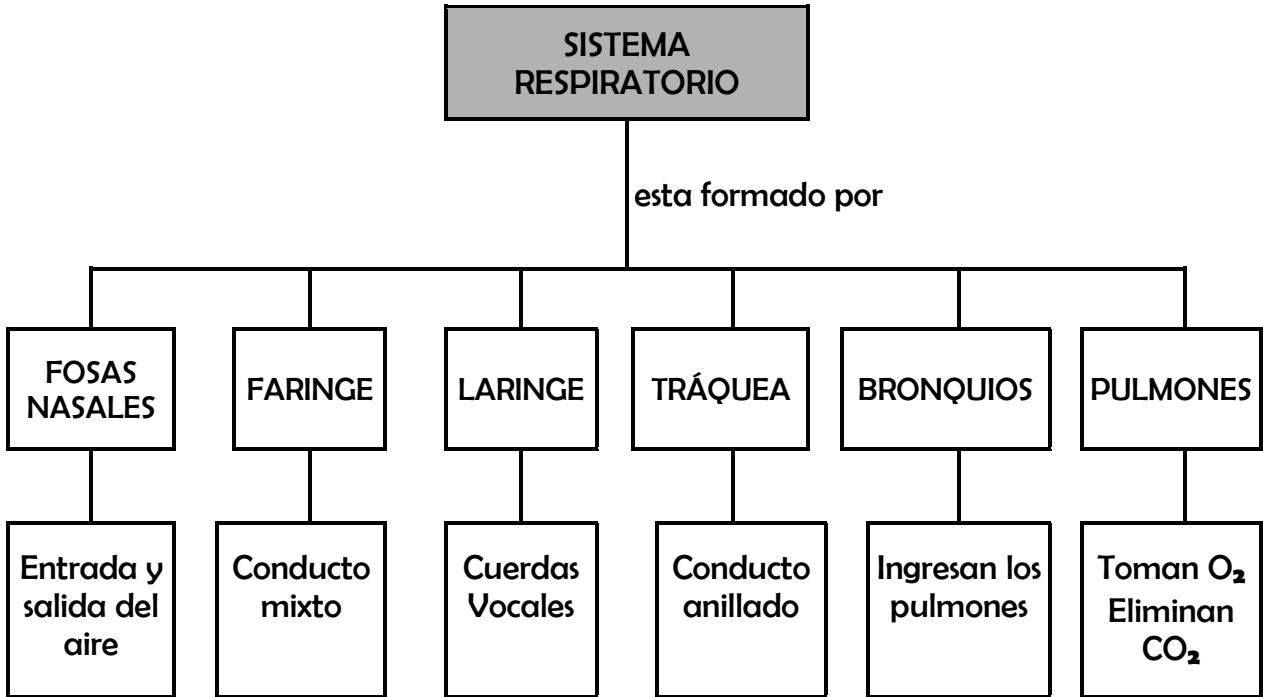




SISTEMA RESPIRATORIO

- Observa el siguiente esquema:

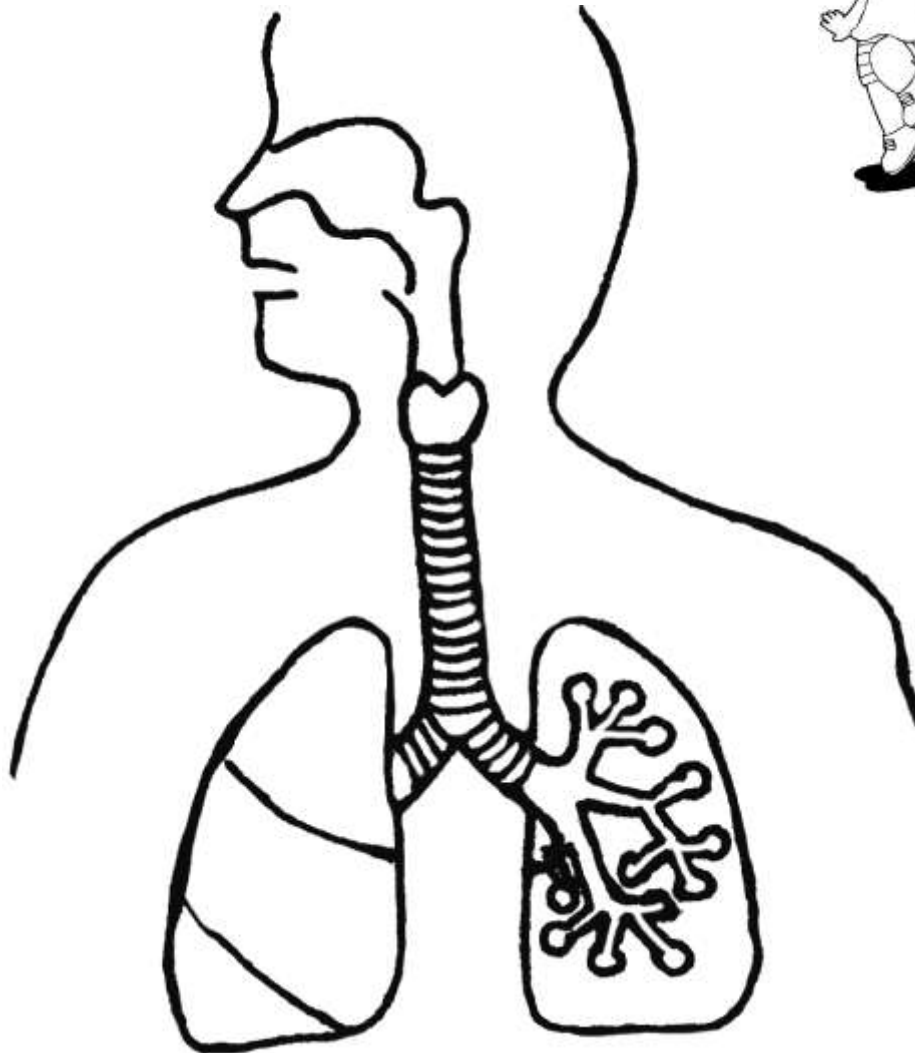


- **COMPLETA** las oraciones con las siguientes palabras.

inspirar	laringe	Manzana de Adán	bronquios
oxígeno	expirar	alvéolos pulmonares	faringe
fosas nasales	pulmones	anhídrido carbónico	pulmones
fosas nasales	tráquea	cuerdas vocales	bronquios

- Respirar es tomar del medio ambiente y eliminar de nuestro cuerpo.
- El sistema respiratorio está formado por:,,, y
- El aire con oxígeno ingresa por las
- A la laringe se le llama también ".....".
- Las se ubican en la laringe.
- La tráquea se divide en dos
- Los bronquios llegan a los
- Dentro de los pulmones encontramos los
- significa tomar aire.
- significa eliminar el aire.

COLOREA el dibujo y
COLOCA sus nombres.



• **INDICA verdadero (V) o falso (F).**

- 01. Debemos tomar bebidas muy heladas. ()
- 02. Debemos desabrigarnos cuando hace frío. ()
- 03. No debemos taparnos la boca cuando tosemos. ()
- 04. Debemos hacer ejercicios. ()
- 05. Nuestro sistema respiratorio está en el tórax. ()

SOPA DE LETRAS.

fosas nasales	pulmones	laringe	faringe
tráquea	bronquios	oxígeno	espirar
alveolos	anhídrido carbónico	inspirar	respirar
cuerdas		bronquitis	asma

O	N	E	G	Í	X	O	I	N	S	P	I	E
A	N	H	Í	D	R	I	D	O	I	X	G	S
P	I	S	A	D	R	E	U	C	T	N	S	P
U	N	B	S	T	E	A	T	A	I	U	O	I
L	S	R	R	S	S	L	R	R	U	Q	L	R
M	P	O	S	O	P	V	A	B	Q	L	O	A
O	I	N	L	Í	I	F	Q	O	N	A	E	R
N	R	Q	E	O	R	P	U	N	O	R	V	E
E	A	U	A	Í	A	G	E	I	R	I	L	E
S	R	I	X	S	R	V	A	C	B	N	A	R
P	L	O	E	A	M	O	L	O	G	G	N	I
F	O	S	A	S	N	A	S	A	L	E	S	A

- **ENCIERRA** ¿Cuál no es enfermedad del sistema respiratorio?

Asma faringitis pulmonitis bronquitis

- **MARCA** la respuesta correcta.

01. El aire ingresa a nuestro cuerpo por:

- A) Los pulmones B) La boca
C) Las fosas nasales D) La laringe

02. Se le conoce como “Manzana de Adán”:

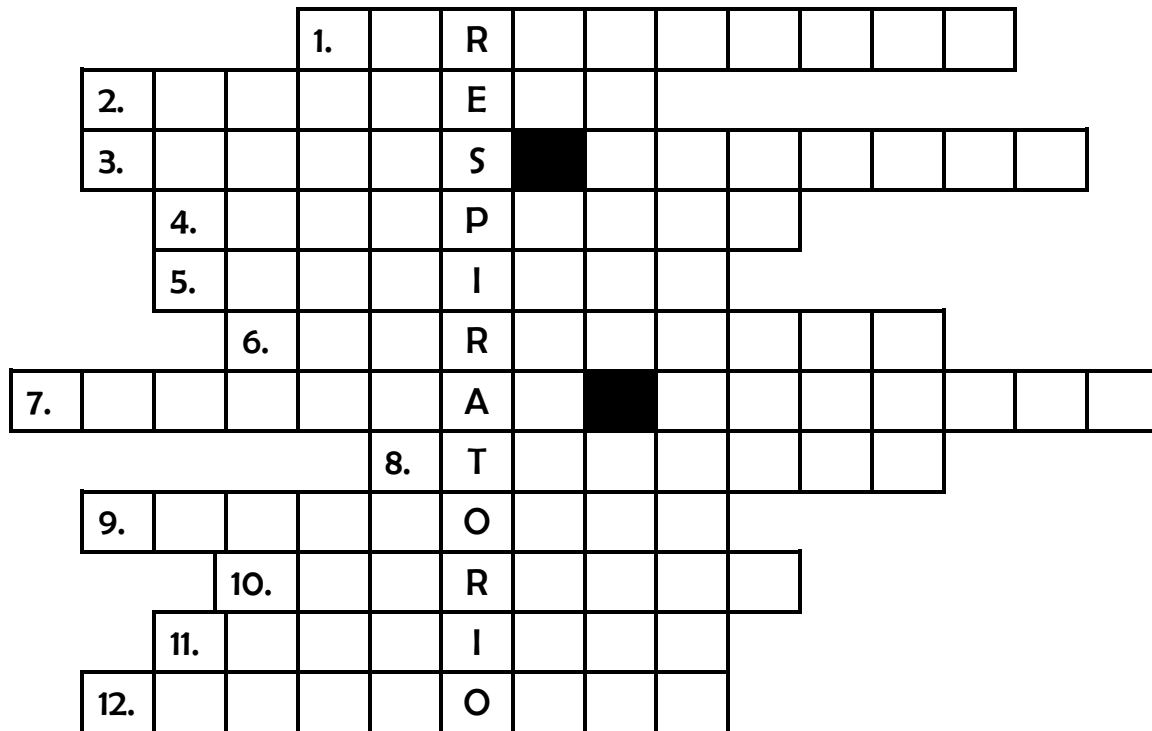
- A) Faringe B) Laringe
C) Tráquea D) Pulmones

03. El diafragma es un músculo que se encuentra debajo de:

- A) Faringe B) Laringe
C) Pulmones D) Bronquios



CRUCI-SISTEMA RESPIRATORIO.



- 1.- Conductos que ingresan a los pulmones.
- 2.- Gas que sirve para respirar.
- 3.- Por donde ingresa el aire.
- 4.- Tomar aire.
- 5.- Conducto mixto (pertenece al sistema digestivo y al sistema respiratorio).
- 6.- Anhídrido que eliminamos.
- 7.- Se encuentran en la laringe.
- 8.- Conducto anillado que se encuentra debajo de la laringe y se divide en dos..
- 9.- Se encuentran dentro de los pulmones.
- 10.- Se le conoce como “Manzana de Adán”
- 11.- Eliminar aire.
- 12.- Masas esponjosas donde llega el oxígeno.

• **MARCA la respuesta correcta:**

01. Las personas que tienen asma:

- A) No puede respirar.
- B) No pueden hablar.
- C) No pueden caminar.
- D) No pueden hacer nada.

02. Conducto que pertenece a los sistemas digestivo y respiratorio:

- | | |
|--------------|------------|
| A) Laringe | B) Tráquea |
| C) Bronquios | D) Faringe |

03. Conductos que llegan a los pulmones:

- | | |
|------------|--------------|
| A) Tráquea | B) Bronquios |
| C) Faringe | D) Laringe |

