



EDUCADITOS

MATEMÁTICA

5
AÑITOS

NUMEROS DEL ONCE AL DIECINUEVE

1 1

1	1		1	1				
---	---	--	---	---	--	--	--	--

--	--	--	--	--	--	--	--	--

1 2

1	2		1	2				
---	---	--	---	---	--	--	--	--

--	--	--	--	--	--	--	--	--

1 3

1	3		1	3				
---	---	--	---	---	--	--	--	--

14

1	4		1					
---	---	--	---	--	--	--	--	--

--	--	--	--	--	--	--	--	--

15

1	5		1	5				
---	---	--	---	---	--	--	--	--

--	--	--	--	--	--	--	--	--

16

1	6		1					
---	---	--	---	--	--	--	--	--

17

1	7		1	7				
---	---	--	---	---	--	--	--	--

--	--	--	--	--	--	--	--	--

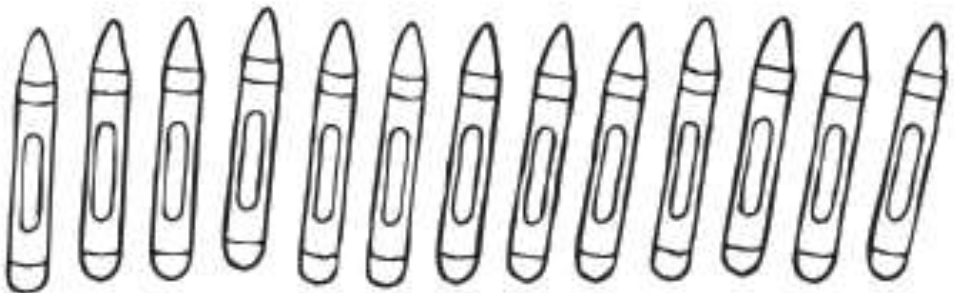



18

1	8		1	8				
---	---	--	---	---	--	--	--	--

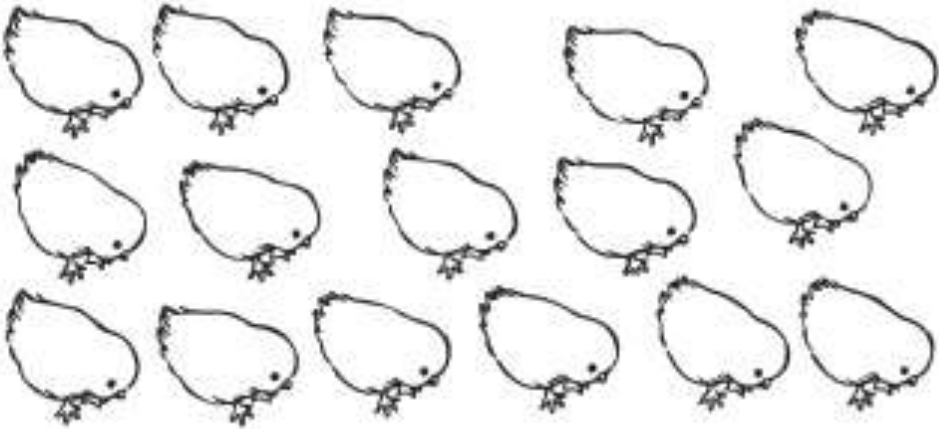
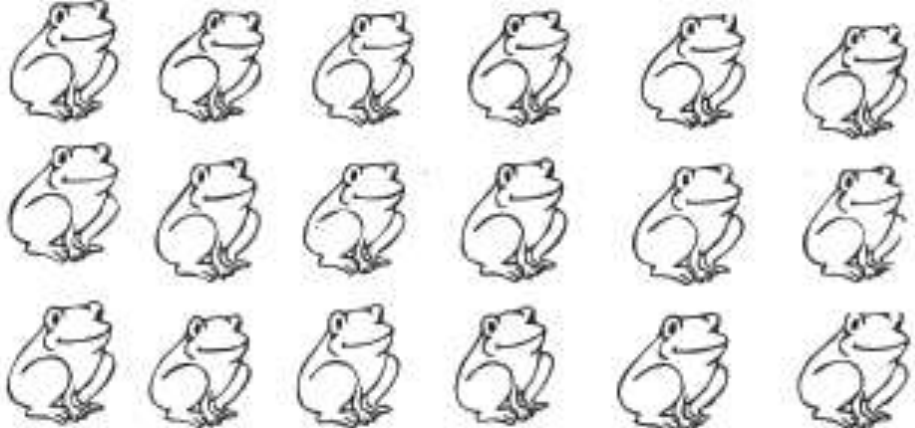

--	--	--	--	--	--	--	--	--

19




1	9		1					
---	---	--	---	--	--	--	--	--

<p>11</p>	
<p>12</p>	
<p>13</p>	
<p>14</p>	

- Pinto según el número.

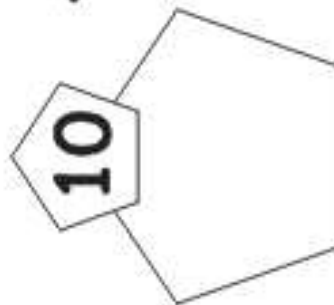
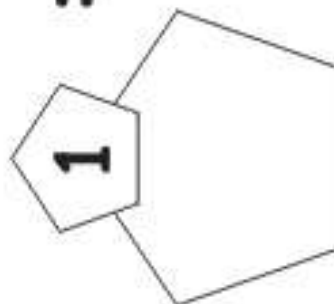
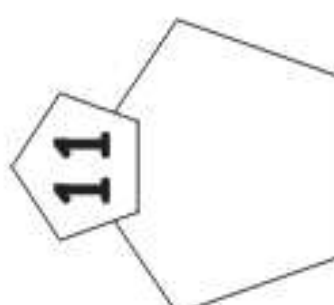
<p>15</p>	
<p>16</p>	
<p>17</p>	


- Pinto según el número.

<p>18</p>	
<p>19</p>	
<p>20</p>	

- Pinto según el número.

ONCE


 +
 
 =
 















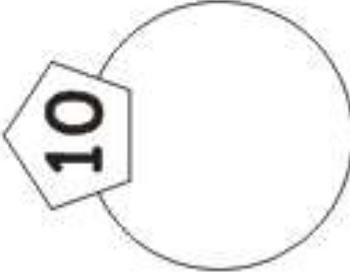
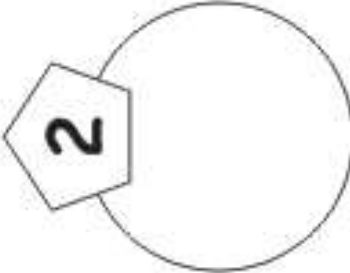




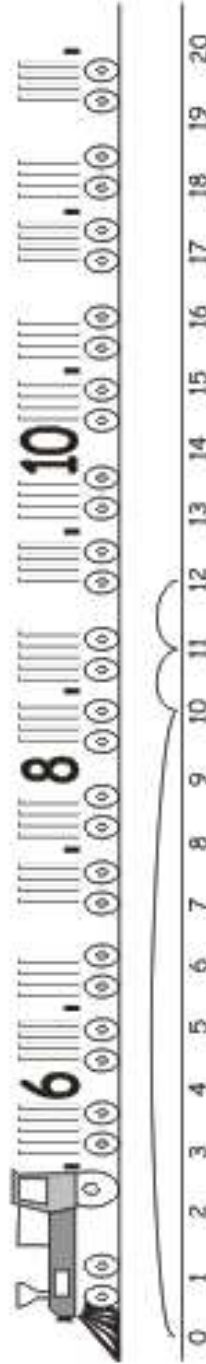




- Dibuja bolitas de acuerdo a lo que indica el número. Escribe los números que faltan de acuerdo a la secuencia. Escribe el número once en los casilleros en blanco.

DOCE


 +
 
 =
 














- Dibuja gotitas de acuerdo a lo que indica el número.
- Escribe los números que faltan de acuerdo a la secuencia.
- Escribe el número doce en los casilleros en blanco.

TRECE



+

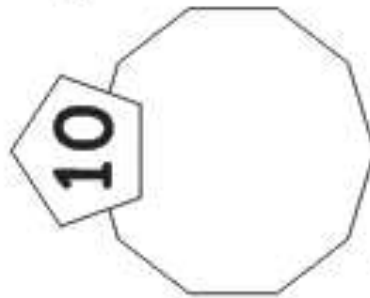
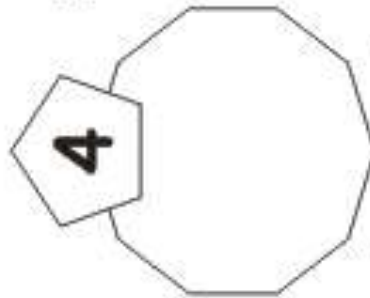
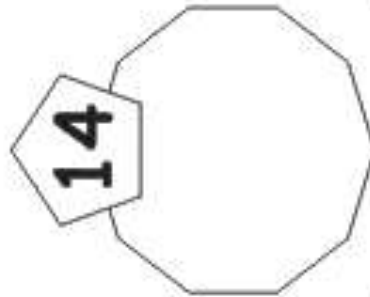
 =



--	--	--	--	--	--	--	--	--	--

- Dibuja monedas de acuerdo a lo que indica el número.
- Escribe los números que faltan de acuerdo a la secuencia de manzanas.
- Escribe el número trece en los casilleros en blanco.

CATORCE



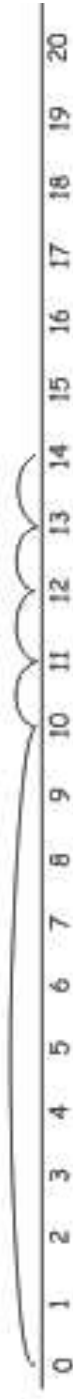
+

=

14

4

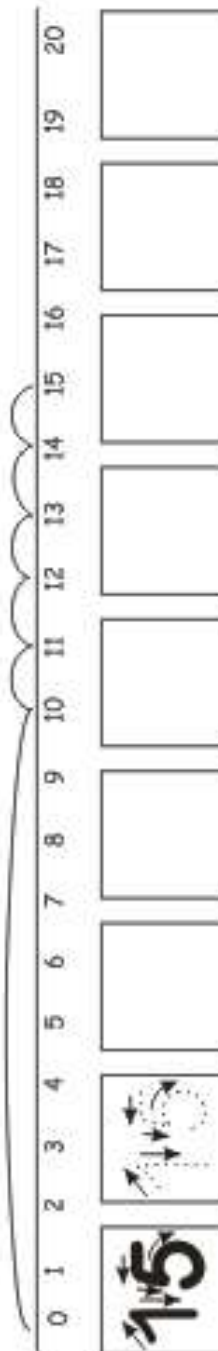
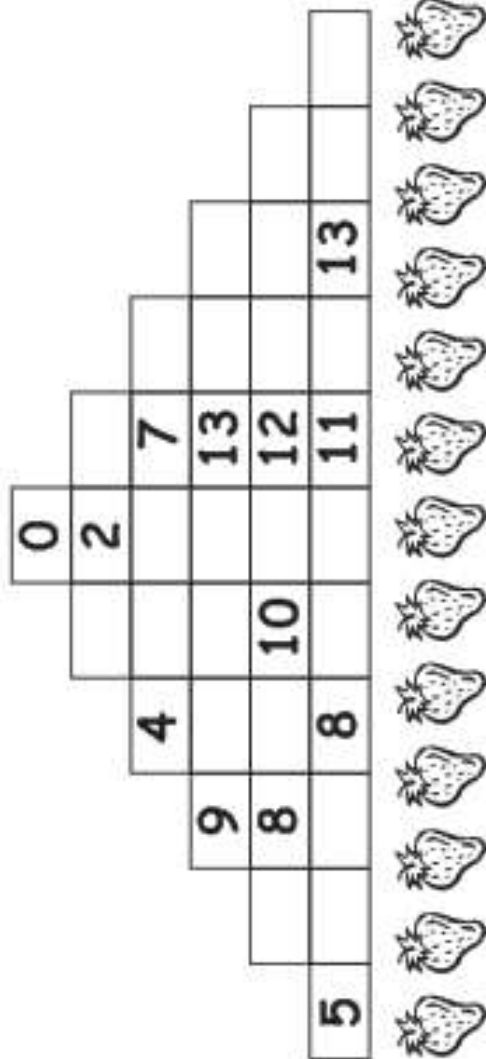
10



		<input type="text"/>	<input type="text"/>	<input type="text"/>	<input type="text"/>	<input type="text"/>	<input type="text"/>	<input type="text"/>	<input type="text"/>
--	--	----------------------	----------------------	----------------------	----------------------	----------------------	----------------------	----------------------	----------------------

- Dibuja arañitas de acuerdo a lo que indica el número.
- Escribe los números que faltan de acuerdo a la secuencia.
- Escribe el número catorce en los casilleros en blanco.

QUINCE



- Escribe los números que faltan en la pirámide de acuerdo a la secuencia. Pinta, únicamente, quince fresas. Escribe el número quince en los casilleros en blanco.

DIECISÉIS

4 + 5 + 7 =

0 1 2 3 4 5 6 7 8 9 10 11 12 13 14 15 16 17 18 19 20

16

- Cuenta el total de saltamontes y escribe la respuesta en los casilleros en blanco.
- Escribe el número dieciséis en los casilleros en blanco.

DIECISIETE

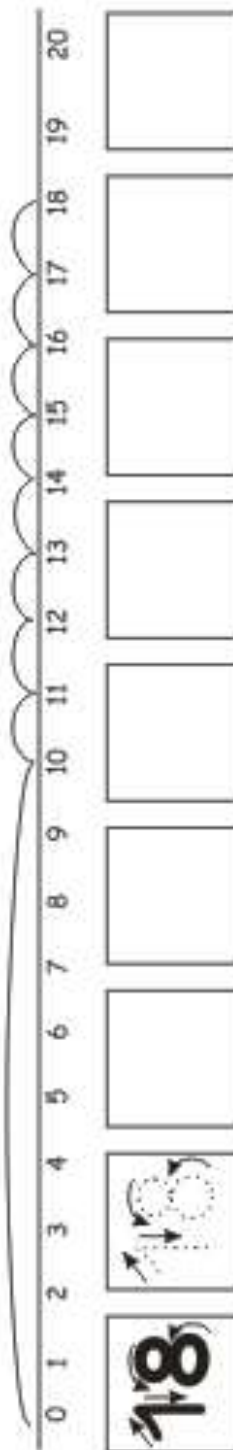
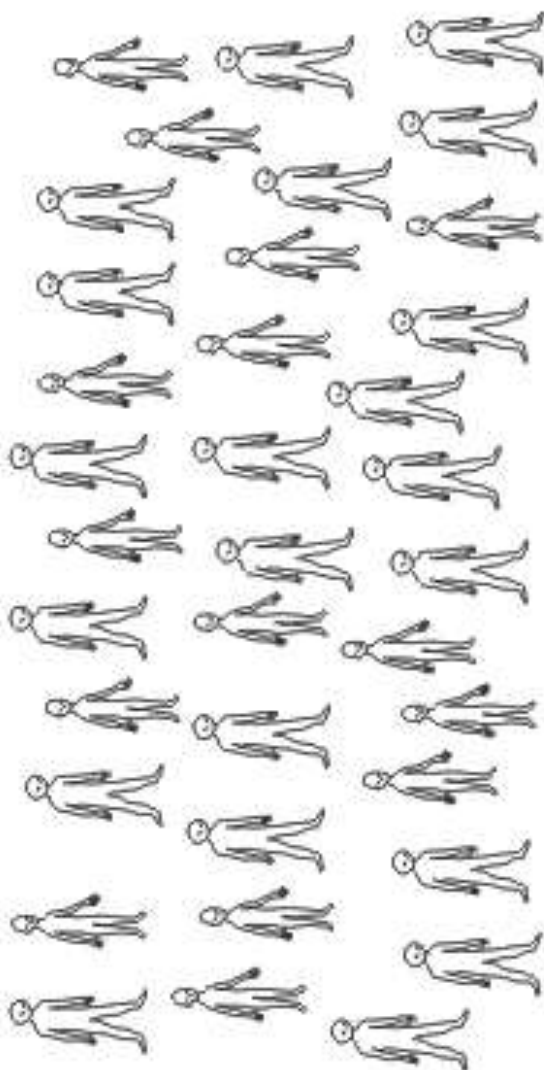
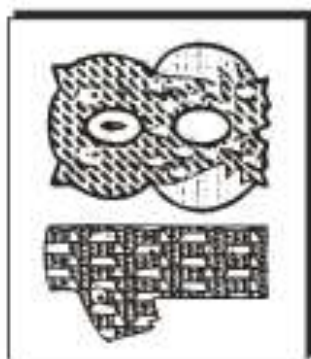
$\bigcirc + \bigcirc = \bigcirc$

0 1 2 3 4 5 6 7 8 9 10 11 12 13 14 15 16 17 18 19 20

17

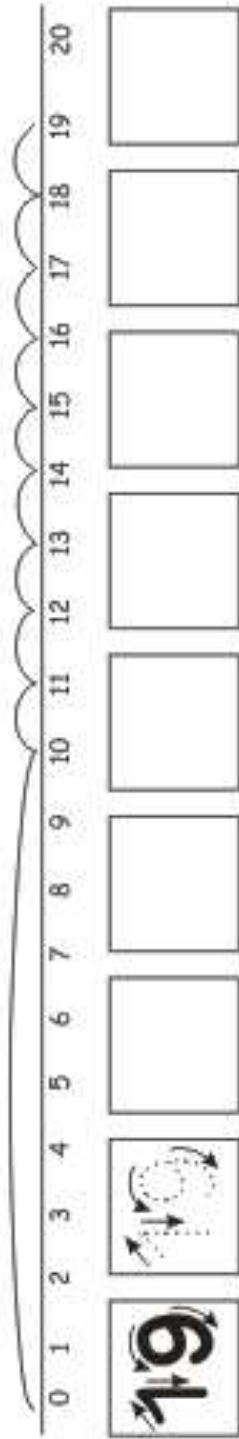
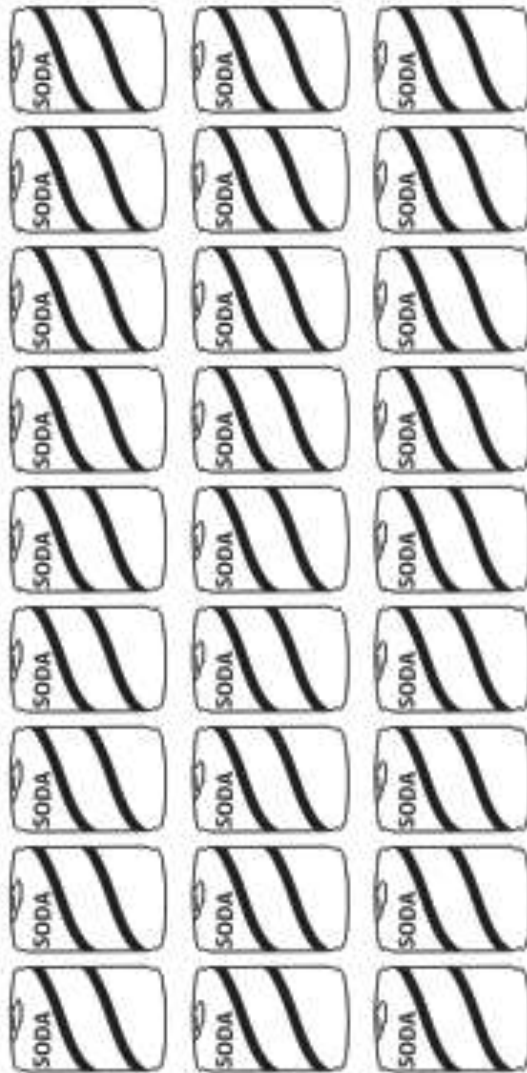
Cuenta el total de chupones y escribe la respuesta en los casilleros en blanco.
 Escribe el número diecisiete en los casilleros en blanco.

DIECIOCHO

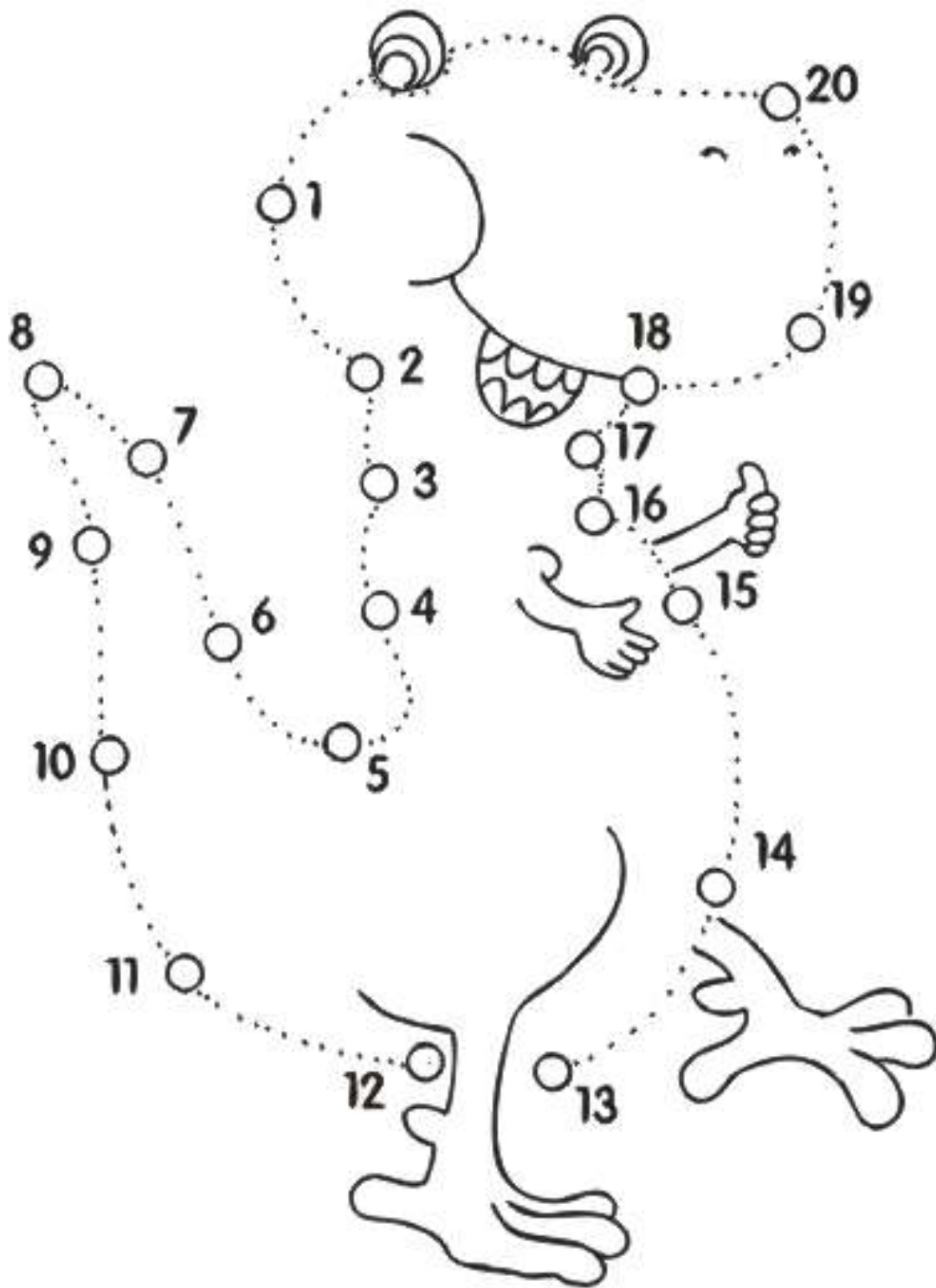


Encierra a los marcianos en grupos de dieciocho.
 Escribe el número dieciocho en los casilleros en blanco.

DIECINUEVE



Colorea, únicamente, diecinueve latas con gaseosa.
Escribe el número diecinueve en los casilleros en blanco.



- Completa la figura uniendo los puntos del 1 al 20. Píntala.